

انشطة لمنهج متعدد التخصصات



صل :

الرائحة

الأنف

التذوق

الناعم والخشن

العين

السمع

حلو ومر

الأذن

الملمس

الأصوات

الجلد

البصر

رؤية الأشياء

اللسان

الشم

اختر الصواب مما بين القوسين :

(الأسنان - اللسان - الأنف)

☆ عضو التذوق هو

(اللمس - السمع - التذوق)

☆ الجلد العضو المسئول عن حاسة

(الألوان - الروائح - الصور)

☆ بالأنف نشم

(السمع - اللمس - البصر)

☆ العين عضو

أعضاء وتصريفات بكار على شرح

متعدد التخصصات

الحواس الخمسة

صل كل عضو بالصورة المناسبة له :



رتب مراحل نمو النباتات :



ضع (✓) أو (×) :

أ تنمو الجذور إلى أسفل ، وينمو الساق إلى أعلى .



ب تنتج الزهرة بذرة يمكننا زراعتها .



ج تنمو الأوراق على الساق والزهرة على الجذر .



العادات اليومية للطلاب

رتب الصور التالية :



صل كل مرحلة من مراحل عمر الإنسان بالصورة المناسبة لها :



رضيع



طفل



مراهق



كبير

تصنيف الكائنات من حولنا اليومية

ضع ✓ أسفل الكلمة الصحيحة :

من أمثلة الكائنات الحية :

الإنسان - الأشجار - الجبال - الحيوانات - البحر



كائنات حية

أشياء غير حية

صل :

منهجه متعدد التخصصات

من أكون؟

اختر الصواب مما بين القوسين :

1. الأسرة تسكن في (البيت - الدراجة - السيارة)
2. أفراد المجتمع (يعملون بمفردهم - يتعاونون - يتخاصمون)
3. من أمثلة المجتمع (المدرسة - الحي الذي أسكن فيه - كلاهما صواب)

حقوق ومسئوليات الأشخاص في المجتمعات

ضع (✓) أو (×) :


1. يجب الالتزام بالتعامل الجيد مع الآخرين
2. تساعد قواعد المجتمع في الحفاظ على الأمن والسلام
3. الالتزام بالقواعد مسئولية الأفراد فقط.
4. الحفاظ على نظافة الفصل من الالتزام بالقواعد

المهن والوظائف

صل :

- المعلمون
- رجال الشرطة
- رجال الإطفاء
- الأطباء
- يحافظون على الصحة ويعملون في المستشفيات
- يقومون بإطفاء الحريق
- يعملون في المدارس ويعلمون التلاميذ
- يحافظون على الأمن ويعملون في مراكز الشرطة

النبات



اكتب ما تشير إليه الأرقام :



صل :

تمتص ضوء الشمس لصنع الغذاء

الجذر

يثبت النبات في التربة ويمتص العناصر الغذائية من التربة

الساق

ينقل الغذاء إلى الأوراق والأزهار

الأوراق

البيئة

ضع كل كلمة مما يأتي في مكانها المناسب :

(الأشجار - البيئة - زراعة)

الأشجار تفيد البيئة .

قطع أغصان يضر البيئة .

كل ما يحيط بالإنسان يسمى .

صل :

زراعة الأشجار

التخلص من القمامة بطريقة صحيحة

عادات تضر
البيئة

قطع أغصان الأشجار

الاهتمام بنظافة البيئة

عادات تفيد
البيئة

إلقاء القمامة في الشوارع

وسائل النقل والمواصلات

ضع دائرة حول وسائل النقل :

قطار - انترنت - سيارة - قارب - بقرة - دراجة

صنف الكلمات في الجدول التالي :

(قطار - قارب - سيارة - دراجة - طائرة - حافلة - مشى)

وسائل نقل تلوث البيئة	وسائل نقل لا تلوث البيئة
.....
.....
.....
.....
.....
.....
.....
.....
.....
.....

منهج متعدد التخصصات

الحيوانات

اكتب كلمة : (أليفة - مقترسة) أسفل الصورة .



صل :

أسماك و حيتان

حيوانات تتحرك بالأرجل

صقر ، عصفور ، نحلة


حيوانات ذات أجنحة

أسد ، فيل ، نمر

حيوانات ذات زعانف

أكمل المخطط التالي :

من وسائل الأمان في وسائل المواصلات



إشارات المرور

صل :

- يعني السير في الطريق آمن



- يعني الوقوف



- يعني إبطاء السرعة و الاستعداد للتوقف



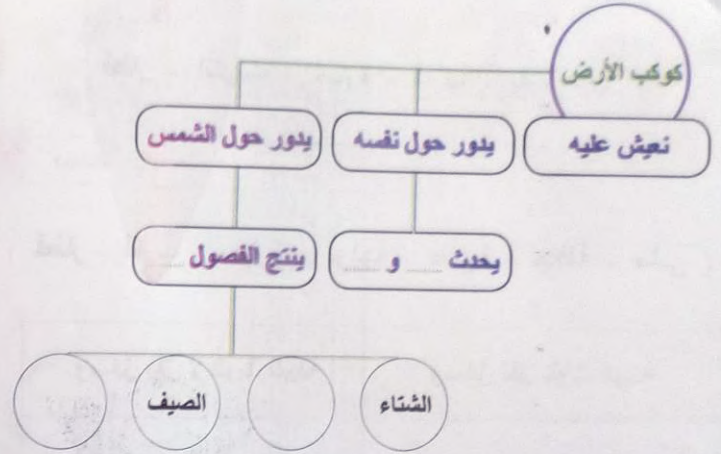
(سر - استعد - توقف) أسفل كل دائرة :



اكتب :

العالم من حولنا

أكمل المخططات التالية :



اختر الصواب :

(الصباح - المساء)

تشرق الشمس في

(الليل - النهار)

في لا نرى الشمس

الشروق و الظهر و المغرب و الليل تسمى

(أوقات اليوم - ساعات اليوم)

نكون في وقت الليل عندما يدور كوكب الأرض باتجاه عن الشمس.

(قريب - بعيد)

الأعياد

١ صل :

عيد السادس من أكتوبر

عيد الفطر

بعد الحج

عيد الأضحى

بعد صوم رمضان

من الأعياد المصرية

٢ ضع ✓ أو × :

١ التقاليد عبارة عن فكرة مستمرة أو عمل مستمر لمدة قصيرة.

٢ من الأغاني القديمة سيرة بنى هلال.

٣ من الأطعمة المصرية الكشرى.

٤ من العادات المصرية القديمة ارتداء الجلباب والقفطان.

فصول السنة الأربعة

اكتب اسم الفصل تحت الصورة :

(الخريف - الشتاء - الربيع - الصيف)



صل :

أرتدي الملابس الخفيفة

شتاء

أرتدي الملابس الثقيلة

صيفاً

أنواع الفواكه والخضراوات

ضع دائره حول فواكه و خضراوات الشتاء :

(جزر - تفاح - بنجر - بطيخ - خس - فول)

ضع دائرة حول فواكه و خضراوات الصيف :

(فول - عنب - بصل - تفاح - بطيخ - مانجو)